

一般入試前期A日程1日目

世界史

I (配点 48)

次の文を読み、(1)～(7)の問いに答えよ。

[解答番号 ～]

2世紀のユーラシア大陸には、西方にローマ帝国、東方に^{ア)}後漢という大帝国が存在していた。

この時期のローマ帝国は「ローマの平和」(パクス=ローマーナ)とよばれるローマ帝国の最盛期にあたり、五賢帝の 帝のもとでローマ帝国の最大版図を実現した。帝国各地にローマ風の都市が建設され、都市文化が浸透した。^{イ)}五賢帝最後の皇帝であるマルクス=アウレリウス=アントニヌス帝は中国の歴史書では「大秦王安敦」とされ、その使者が (現在のベトナム中部)に到達したとされる。五賢帝の時代が終わり、3世紀に入ると、ローマ帝国は「3世紀の危機」とよばれる危機的な状況に陥ることとなった。

この頃のアフリカでは、ナイル川上流に^{ウ)}クシュ王国が栄えた。ローマ帝国と後漢の間に位置した西アジアの やインドの^{エ)}クシャーナ朝は、東西を結ぶ交易によって繁栄した。 は前3世紀にアルサケスによって建国され、^{オ)}クテシフォンを都とした。また、クシャーナ朝と並び有力であった は、西方や東南アジアとの交易によって繁栄した。東南アジアでは、1世紀末に東南アジア最古の国家である扶南が成立した。その外港の からは、インドの神像やローマ貨幣などが出土している。

後漢では、2世紀に入ると幼少の皇帝が続いて政治が混乱し、184年に起こった の乱をきっかけとして各地に軍事集団が割拠するようになった。220年に後漢は滅亡し、以後の中国は^{カ)}三国が分立する三国時代をむかえた。

(1) ～ に当てはまる適切な語句を、解答群1からそれぞれ1つ選べ。

解答群1

- | | | | |
|----------|---------|-------------|-------|
| ① バクトリア | ② パルティア | ③ サータヴァーハナ朝 | ④ オケオ |
| ⑤ ハドリアヌス | ⑥ トラヤヌス | ⑦ 楽浪郡 | ⑧ 日南郡 |
| ⑨ 陳勝・呉広 | ⑩ 黄巾 | | |

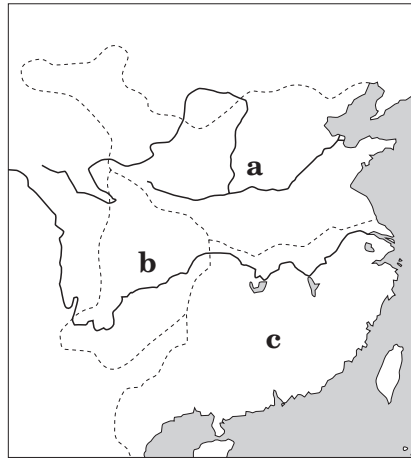
(6) 下線部**オ**に関連して、クテシフォンがあるティグリス川中流域を支配した次のa～cの王朝を年代の古い順に並べた場合、最も適当なものを、下の①～⑥の中から1つ選べ。

11

a セレウコス朝 b アケメネス朝 c ササン朝

- ① a→b→c ② a→c→b ③ b→a→c
 ④ b→c→a ⑤ c→a→b ⑥ c→b→a

(7) 下線部**カ**に関連して、三国時代を示した次の地図中のa～cに当てはまる国の組み合わせとして最も適当なものを、下の①～⑥の中から1つ選べ。 12



- ① a－魏 b－蜀 c－呉 ② a－魏 b－呉 c－蜀
 ③ a－蜀 b－魏 c－呉 ④ a－蜀 b－呉 c－魏
 ⑤ a－呉 b－魏 c－蜀 ⑥ a－呉 b－蜀 c－魏

II

(配点 36)

次の文を読み、(1)～(9)の問いに答えよ。

〔解答番号 ～ 〕

インドで成立した仏教は、中央アジアを経て中国や^{ア)}朝鮮半島、日本へ伝播した。中国には1世紀頃に伝わり、^{イ)}魏晋南北朝時代になると社会不安を背景として庶民にまで普及していった。仏図澄や鳩摩羅什など西域出身の仏僧が華北での布教や仏典の翻訳に活躍し、北魏の時代には各地に^{ウ)}石窟寺院が造営された。また、仏教に刺激されて道教が成立した。

唐代になると、仏教は帝室の保護を受けて繁栄し、中国独自の浄土宗や禪宗などの宗派も形成されていった。また、^{エ)}インドに赴き、仏典を持ち帰る僧も多かった。唐代には西方との交流が盛んとなり、祇教とよばれた^{オ)}ゾロアスター教や景教とよばれた^{カ)}ネストリウス派キリスト教などの宗教が伝わり、これらの宗教の寺院も建てられた。

ユーラシア大陸の大半を支配した^{キ)}大モンゴル国(モンゴル帝国)の時代には、東西文化の交流が盛んとなり、人が行き交った。13世紀末に中国に派遣されたモンテ=コルヴィノは、中国で初めてカトリックを布教した。一方、元代にはチベットで発展したチベット仏教(ラマ教)が保護された。

16世紀以降、国際商業が活発となると、^{ク)}キリスト教宣教師が多く中国に来航した。彼らは布教を行うとともに文化交流につとめ、ヨーロッパの技術などを伝えた。しかし、清代にはイエズス会宣教師の中国での布教方法をめぐって典礼問題が起こり、結果的に^{ケ)}キリスト教の布教は禁止されることになった。

(1) 下線部^{ア)}に関連して、朝鮮半島における仏教に関する記述 a・b の正誤の組み合わせとして最も適当なものを、下の①～④の中から1つ選べ。

- a 高句麗は、都の金城(慶州)に仏国寺を建立した。
b 高麗の時代には、仏教経典を集成して『大蔵経』がつくられた。

- ① a - 正 b - 正 ② a - 正 b - 誤
③ a - 誤 b - 正 ④ a - 誤 b - 誤

(2) 下線部イ)に関連して、魏晋南北朝時代に関する次のa～cの出来事を年代の古い順に並べた場合、最も適当なものを、下の①～⑥の中から1つ選べ。 14

- a 北魏の太武帝が華北を統一した。
- b 南朝の陳が滅亡した。
- c 西魏が北周に倒された。

- ① a→b→c ② a→c→b ③ b→a→c
- ④ b→c→a ⑤ c→a→b ⑥ c→b→a

(3) 下線部ウ)に関連して、中国の石窟寺院に関する次の文中の空欄 ア ・ イ に当てはまる語の組み合わせとして最も適当なものを、下の①～④の中から1つ選べ。

15

現在の甘肅省西端の ア に莫高窟が造営され、山西省大同付近の イ に石窟寺院が造営された。

- ① ア－成都 イ－雲崗 ② ア－成都 イ－竜門
- ③ ア－敦煌 イ－雲崗 ④ ア－敦煌 イ－竜門

(4) 下線部エ)に関連して、インドを訪れた唐僧とその旅行記の組み合わせとして最も適当なものを、次の①～④の中から1つ選べ。 16

- ① 法顕－『大唐西域記』 ② 法顕－『南海寄帰内法伝』
- ③ 義浄－『大唐西域記』 ④ 義浄－『南海寄帰内法伝』

(5) 下線部オ)に関連して、ゾロアスター教に関する記述として誤っているものを、次の①～④の中から1つ選べ。 17

- ① 選民思想を特徴とする。
- ② アフラ=マズダを善(光明)の神とする。
- ③ 『アヴェスター』を教典とする。
- ④ ササン朝の時代に国教とされた。

(6) 下線部カ)に関連して、431年にネストリウス派キリスト教を異端とした公会議として最も適当なものを、次の①～④の中から1つ選べ。 18

- ① エフェソス公会議 ② ニケーア公会議
- ③ カルケドン公会議 ④ コンスタンツ公会議

(7) 下線部キ)に関連して、大モンゴル国(モンゴル帝国)から元代にかけての東西交流に関する記述として最も適当なものを、次の①～④の中から1つ選べ。 19

- ① フランス王ルイ9世は、プラノ=カルピニを派遣した。
- ② ヴェネツィア出身のマルコ=ポーロは、チングス=ハンに仕えた。
- ③ 旅行家のイブン=バットゥータは、『世界の記述』(『東方見聞録』)を口述筆記した。
- ④ 大モンゴル国(モンゴル帝国)は交通路の安全につとめ、ジャムチとよばれる駅伝制が整備された。

(8) 下線部ク)に関連して、明・清代に活躍したキリスト教宣教師に関する記述として最も適当なものを、次の①～④の中から1つ選べ。 20

- ① マテオ=リッチは、李時珍の協力により『幾何原本』を刊行した。
- ② アダム=シャルは、授時暦を作成した。
- ③ カステイリオーネは、円明園の設計に参加した。
- ④ ブーヴェは、「坤輿万国全図」を作製した。

(9) 下線部ケ)に関連して、キリスト教布教の禁止に関する次の文中の空欄 ウ ・

エ に当てはまる語の組み合わせとして最も適当なものを、下の①～④の中から1つ選べ。 21

1724年、ウ によってキリスト教布教は全面禁止されたが、アロー戦争に際してエ を結んで清はキリスト教布教の自由を認めた。しかし条約締結後に戦争は再開され、1860年にはエ を補強する条約が結ばれ、キリスト教布教の自由も確認された。

- ① ウ - 雍正帝 エ - 南京条約 ② ウ - 雍正帝 エ - 天津条約
- ③ ウ - 康熙帝 エ - 南京条約 ④ ウ - 康熙帝 エ - 天津条約

Ⅲ (配点 36)

次の(A)(B)の文を読み、(1)～(9)の問いに答えよ。

[解答番号 22 ～ 30]

(A) ア) ニューヨークの名門の家に生まれたセオドア=ローズヴェルトは、共和党からニューヨーク州下院議員として政界入りを果たした。その後、海軍次官やニューヨーク州知事などを経て、イ) マッキンリー大統領の副大統領に就任した。マッキンリー大統領が1901年に無政府主義者によって暗殺されると、セオドア=ローズヴェルトは大統領に昇格し、1904年の大統領選挙で再選を果たした。セオドア=ローズヴェルト大統領は、内政では革新主義的な諸改革を行い、外交では、ウ) 積極的なカリブ海政策を推進した。また、第1次モロッコ事件や、エ) 日露戦争を調停した功績により、1906年にノーベル平和賞を受賞した。

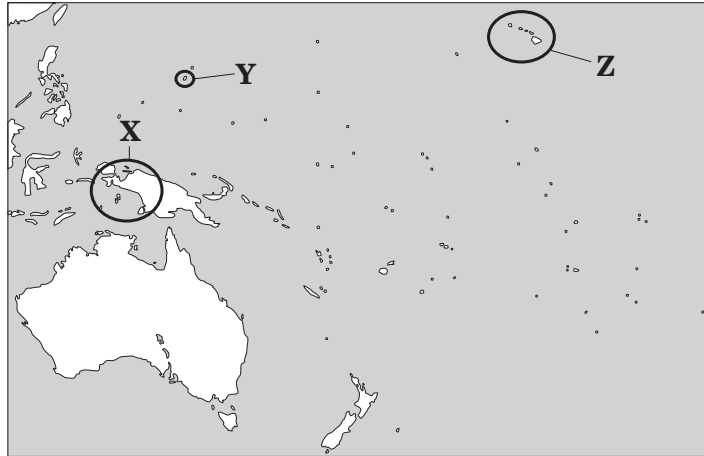
(1) 下線部ア)に関連して、ニューヨークに関する記述 a・b の正誤の組み合わせとして最も適切なものを、下の①～④の中から1つ選べ。 22

- a フランスが建設したニューアムステルダムを起源とする。
- b 1920年代末、ウォール街の株式市場の株価の大暴落により世界恐慌が始まった。

- | | | | |
|---------|-------|---------|-------|
| ① a - 正 | b - 正 | ② a - 正 | b - 誤 |
| ③ a - 誤 | b - 正 | ④ a - 誤 | b - 誤 |

- (2) 下線部イ)に関連して、マッキンリー大統領の時代にアメリカ合衆国が獲得した地域に関する次の a・b の説明と、それに当てはまる地図中の X～Z の地域の組み合わせとして最も適切なものを、下の①～④の中から1つ選べ。 **23**

- a アメリカ＝スペイン（米西）戦争の結果、スペインから獲得した。
b アメリカ系市民のクーデタが起こり、女王リリウオカラニが退位した。



- ① a - X b - Y ② a - X b - Z
③ a - Y b - X ④ a - Y b - Z

- (3) 下線部ウ)に関連して、セオドア＝ローズヴェルト大統領が推進したカリブ海政策に関する次の文中の空欄 **ア** ・ **イ** に当てはまる語の組み合わせとして最も適切なものを、下の①～④の中から1つ選べ。 **24**

中米諸国に対して武力干渉を行ったことから **ア** とよばれ、 **イ** 建設に着手した。

- ① **ア** - 棍棒外交 **イ** - パナマ運河 ② **ア** - 棍棒外交 **イ** - スエズ運河
③ **ア** - 宣教師外交 **イ** - パナマ運河 ④ **ア** - 宣教師外交 **イ** - スエズ運河

- (4) 下線部エ)に関連して、日露戦争の講和条約に関する記述として最も適切なものを、次の①～④の中から1つ選べ。 **25**

- ① ロシアは、遼東半島南部の租借権を獲得した。
② 日本は、台湾や澎湖諸島を獲得した。
③ 日本は、南満州の鉄道利権を獲得した。
④ 全樺太をロシア領、全千島を日本領とした。

(B) ミズーリ州出身のトルーマンは、民主党の上院議員として政界入りを果たした。オ) 第二次世界大戦末期の1944年, カ) フランクリン=ローズヴェルト大統領の副大統領に就任した。フランクリン=ローズヴェルト大統領が1945年に急死すると、トルーマンは大統領に昇格し、同年7～8月のポツダム会談に出席した。この会談にはソ連のスターリン、イギリスのチャーチル（途中でキ) アトリーと交替）が出席し、日本の降伏を求めるポツダム宣言が発表された。

第二次世界大戦後、アメリカ合衆国を中心とする資本主義陣営とソ連を中心とする社会主義陣営が対立する「冷戦」とよばれる緊張状態が発生した。トルーマン大統領はトルーマン=ドクトリンを提唱してソ連の封じ込めをはかり、ク) 集団安全保障体制の確立につとめた。1950年に朝鮮戦争が始まると、ケ) 大韓民国（韓国）を支援して朝鮮半島に出兵した。

(5) 下線部オ)に関連して、第二次世界大戦中、フランスが降伏したことによりフランス中部に成立した政府と、その首班の組み合わせとして最も適当なものを、下の①～④の中から1つ選べ。 26

フランス中部に成立した政府

a ヴィシー政府 b 自由フランス政府

首班

X ペタン Y ド=ゴール

① a - X ② a - Y ③ b - X ④ b - Y

(6) 下線部カ)に関連して、フランクリン=ローズヴェルト大統領に関する記述として最も適当なものを、次の①～④の中から1つ選べ。 27

- ① フィリピン=アメリカ戦争に勝利した。
- ② 秘密外交の廃止などを内容とする十四カ条を発表した。
- ③ 東アジア・太平洋地域の情勢を調整するため、ワシントン会議を開催した。
- ④ ラテンアメリカ諸国に対し、善隣外交とよばれる外交政策をとった。

(7) 下線部キ)に関連して、アトリーに関する記述として最も適当なものを、次の①～④の中から1つ選べ。 28

- ① ミュンヘン会談に出席し、^{ゆう}宥和政策をとった。
- ② 重要産業の国有化を進め、社会福祉制度の充実をはかった。
- ③ 「鉄のカーテン」演説を行った。
- ④ 新自由主義的改革により、「小さな政府」をめざした。

- (8) 下線部ク)に関連して、トルーマン大統領による集団安全保障体制の構築に関する次の文中の空欄 **ウ** ・ **エ** に当てはまる語の組み合わせとして最も適当なものを、下の①～④の中から1つ選べ。 **29**

1949年には西側の集団安全保障機構である **ウ** を設立し、1951年にはアメリカ合衆国・オーストラリア・ニュージーランドの安全保障条約として **エ** を締結した。

- | | |
|-----------------------------|-----------------------------|
| ① ウ －北大西洋条約機構 (NATO) | エ －東南アジア条約機構 (SEATO) |
| ② ウ －北大西洋条約機構 (NATO) | エ －太平洋安全保障条約 (ANZUS) |
| ③ ウ －ワルシャワ条約機構 | エ －東南アジア条約機構 (SEATO) |
| ④ ウ －ワルシャワ条約機構 | エ －太平洋安全保障条約 (ANZUS) |

- (9) 下線部ケ)に関連して、大韓民国(韓国)に関する次のa～cの出来事を年代の古い順に並べた場合、最も適当なものを、下の①～⑥の中から1つ選べ。 **30**

- a 朝鮮民主主義人民共和国(北朝鮮)と同時に国際連合に加盟した。
- b 南北首脳会談が実現した。
- c 日韓基本条約を結んだ。

- | | | |
|---------|---------|---------|
| ① a→b→c | ② a→c→b | ③ b→a→c |
| ④ b→c→a | ⑤ c→a→b | ⑥ c→b→a |

IV (配点 30)

次の(1)～(10)の問いに答えよ。

[解答番号 **31** ～ **40**]

- (1) イタリア中部を流れるティベル川の河畔には、都市国家ローマが建設された。ローマにおいて平民(プレブス)と貴族(パトリキ)の政治上の権利が同等となった時期として最も適切なものを、次の年表中の①～④の中から1つ選べ。 **31**

①
前6世紀末 エトルリア人の王が追放される
②
前5世紀半ば 十二表法が制定される
③
前367年 リキニウス・セクステイウス法が制定される
④

- (2) チャオプラヤ川は、タイ中部を流れる同国最大の河川である。チャオプラヤ川下流域に7世紀から11世紀にかけて発展した国と、その国を建てた民族の組み合わせとして最も適切なものを、次の①～④の中から1つ選べ。 **32**

- ① ドヴァーラヴァティー-モン人 ② ドヴァーラヴァティー-クメール人
③ スコータイ朝-モン人 ④ スコータイ朝-クメール人

- (3) ティグリス川は、アナトリア高原に発してイラクに入り、ペルシア湾に注ぐ大河である。ティグリス川西岸には、8世紀にアッバース朝の都としてバグダードが建設された。バグダードをめぐる歴史に関する次のa～cの出来事を年代の古い順に並べた場合、最も適切なものを、下の①～⑥の中から1つ選べ。 **33**

- a セルジューク朝がバグダードに入城した。
b ブワイフ朝がバグダードに入城した。
c フラグの率いるモンゴル軍がバグダードを攻略した。

- ① a→b→c ② a→c→b ③ b→a→c
④ b→c→a ⑤ c→a→b ⑥ c→b→a

- (4) アフリカ西部を流れるニジェール川に関する次の文中の空欄 **ア** ・ **イ** に当てはまる語の組み合わせとして最も適当なものを、下の①～④の中から1つ選べ。 **34**

ニジェール川流域では **ア** が採掘され、サハラ砂漠の岩塩と交換するサハラ交易が行われた。ニジェール川の湾曲部に位置した **イ** は、交易都市として発達した。

- ① **ア**－ダイヤモンド **イ**－マリンディ
- ② **ア**－ダイヤモンド **イ**－トンプクトゥ
- ③ **ア**－金 **イ**－マリンディ
- ④ **ア**－金 **イ**－トンプクトゥ

- (5) 中央アジアを流れるアム川・シル川に関する次の文中の空欄 **ウ** ・ **エ** に当てはまる語の組み合わせとして最も適当なものを、下の①～④の中から1つ選べ。 **35**

アム川・シル川に挟まれた地域は **ウ** とよばれ、その中心都市である **エ** は古くより東西貿易の中心として栄え、ティムール朝の時代にはその都とされた。

- ① **ウ**－ソグディアナ **エ**－イスファハーン
- ② **ウ**－ソグディアナ **エ**－サマルカンド
- ③ **ウ**－新疆 **エ**－イスファハーン
- ④ **ウ**－新疆 **エ**－サマルカンド

- (6) ドニエプル川は、ロシア・ウクライナを流れ、黒海に注ぐ大河である。ドニエプル川流域にはスラヴ人やノルマン人が進出し、やがて国が建てられた。ロシアの歴史に関する記述として最も適当なものを、次の①～④の中から1つ選べ。 **36**

- ① ドニエプル川中流域には、ロシア人やウクライナ人などの南スラヴ人が広がっていった。
- ② ロロを首領とするノルマン人の一派はスラヴ人地域に進出し、ノヴゴロド国を建てた。
- ③ ノルマン人が建てたキエフ公国では、ウラディミル1世がギリシア正教を国教とした。
- ④ モスクワ大公国の大公イヴァン3世は、チャガタイ=ハン国の支配から自立した。

(7) チェコからドイツを経て北海に注ぐエルベ川に関する記述 a・b の正誤の組み合わせとして最も適当なものを、下の①～④の中から1つ選べ。 37

- a エルベ川以東の地では、ドイツ人による東方植民が行われた。
- b エルベ川以東の地では、近世になると農場領主制（グーツヘルシャフト）が広まった。

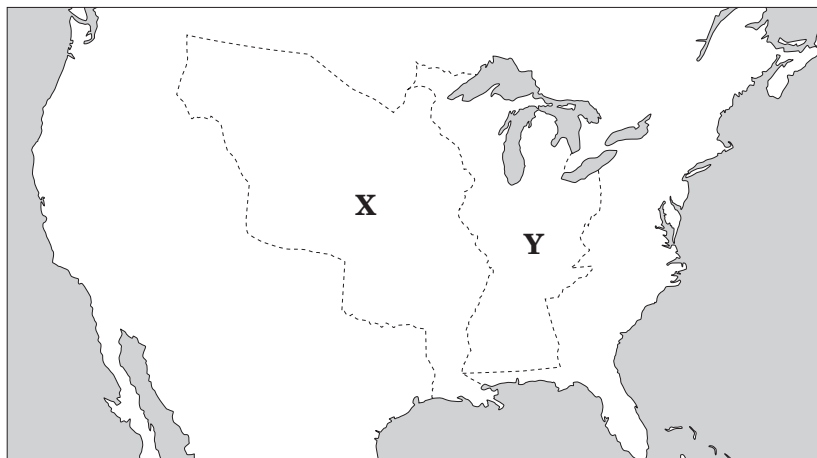
- ① a - 正 b - 正 ② a - 正 b - 誤
- ③ a - 誤 b - 正 ④ a - 誤 b - 誤

(8) 中国を流れるさまざまな河川は、ときには国境とされた。中国史上における国境に関する記述として最も適当なものを、次の①～④の中から1つ選べ。 38

- ① 黄河と長江の間を流れる淮河は、北宋と遼の国境とされた。
- ② ネルチンスク条約により、アルゲン川とスタノヴォイ山脈（外興安嶺）は清とロシアの国境とされた。
- ③ ロシアは、キャフタ条約によりウスリー川以東の沿海州を獲得した。
- ④ フランスは、アイゲン条約により黒竜江（アムール川）以北を領有した。

(9) アメリカ合衆国の中部を縦断して流れるミシシッピ川流域には、フランスによってルイジアナ植民地が築かれたが、やがてルイジアナはさまざまな国に領有された。次の a・b の説明と、それに当てはまる地図中の X・Y の地域の組み合わせとして最も適当なものを、下の①～④の中から1つ選べ。 39

- a モンロー大統領の時代にアメリカ合衆国がフランスから買収した。
- b 七年戦争の講和条約として結ばれたパリ条約で、フランスからイギリスに割譲された。



- ① a - X ② a - Y ③ b - X ④ b - Y

(10) ライン川はドイツ西部を貫流し、オランダで北海に注ぐ河川である。ライン川西岸のラインラントはザール地方やルール地方を含み、ドイツとフランスの歴史的係争地となった。ライン川流域に関する記述として誤っているものを、次の①～④の中から1つ選べ。 40

- ① 第一次世界大戦後、フランスはルール占領を強行した。
- ② ローザンヌ条約により、ラインラントの非武装化が確認された。
- ③ ナチ党政権は、住民投票によってザール地方をドイツに編入した。
- ④ ナチ党政権は、ラインラントに軍を進駐させた。